


<p>ČJ</p> 	<p>Slabikář do str. 61 Bezpečně čtu slova a věty s H. Tvořím věty s danými slovy.</p>	
<p>PSANÍ</p> 	<p>Písanka do str. 20 Píšu psacím písmem velké I, A. Píšu psací slova podle diktátu.</p>	
<p>M</p> 	<p>Matematika do str. 73 Počítám do 14. Znázorním cestu v prostředí autobus. Doplním chybějící čísla do příkladu (neposedové).</p>	
<p>SKN</p> 	<p>Prvouka do str. 57 Orientuji se v kalendáři podle dnů v týdnu. Znázorním otáčení Země kolem Slunce.</p>	
<p>AJ</p> 	<p>Unit 8/ Lesson 1 Pojmenuji části těla.</p>	

1. PŘEČTI SI VĚTY, DOKRESLI.




Letoun nad loukou.



Palouk s vílou.



Klára s Janou se koupou.



Autá jedou.

2. NÁZEV KNIHY, KTEROU ČTU _____

3. VYPOČÍTEJ.

$2 + 6 = \underline{\quad}$ $13 - 1 = \underline{\quad}$

$7 + 0 = \underline{\quad}$ $14 - 4 = \underline{\quad}$

$6 + 5 = \underline{\quad}$ $14 - 5 = \underline{\quad}$

$6 + 6 = \underline{\quad}$ $12 - 11 = \underline{\quad}$

$5 + \square = 5$ $9 - \square = 2$

$3 + \square = 11$ $13 - \square = 11$

4. VRAŤ ČÍSLA NEPOSEDY ZPĚT.

$\square + \square = 10$


$\square + \square = 7$

$\square + \square = 13$

$\square + \square = 11$



5. SPOJ ČAROU STEJNOU SLABIKU TISKACE A PSACE. ČTI SLOVA NA KOSTKÁCH DOMINA.



6. HÁDEJ, HÁDEJ, HADAČI. CO JE TO? ZAKROUŽKUJ.

Visí to a neví kde,
bije to a neví koho,
ukazuje to a neví kam,
počítá a neví kolik.



6. PROCVIČUJTE ORIENTACI V KALENDÁŘI.

Dnes je _____, svátek má _____

Počasí je _____

Roční období _____

- Měsíce, roční období <https://www.skolasnadhledem.cz/game/1507?query=542%20055>

- Pochopení obsahu krátkých vět <https://www.skolasnadhledem.cz/game/1181?query=540%20059>

- Činnosti <https://www.skolasnadhledem.cz/game/1417?query=540%20061>

- Sčítání a odčítání <https://www.skolasnadhledem.cz/game/1445?query=544%20012>

